



ねだんが1000円のチョコレートを8%引きで買います。

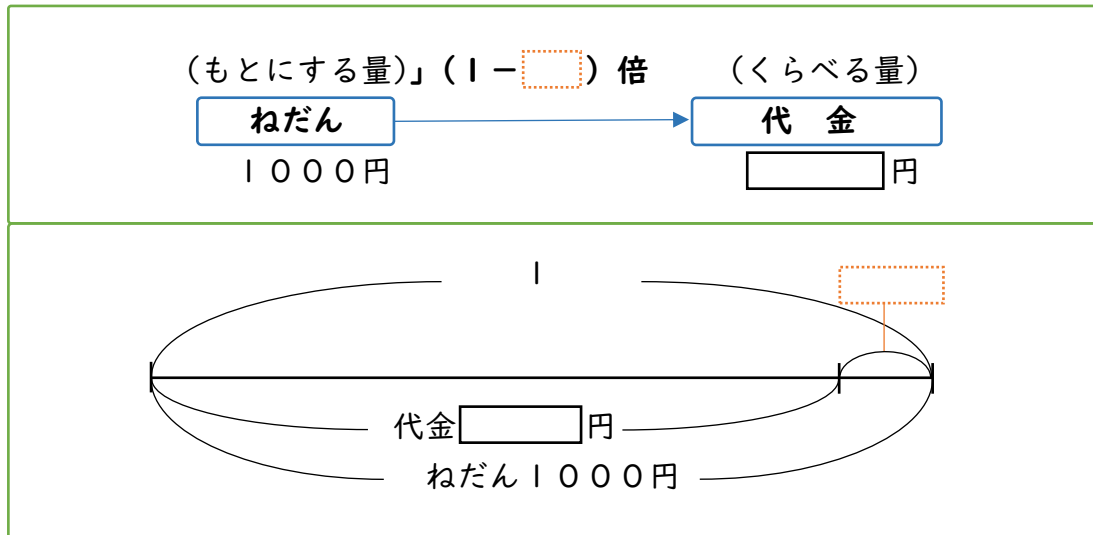
① もとのねだんの8%は何円になりますか。

式

答え

② しはらう代金は、もとのねだんの何倍になりますか。

に割合を書きましょう。



式

答え

③ 代金は何円になりますか。

式

答え



ねだんが2000円の時計を9%引きで買います。

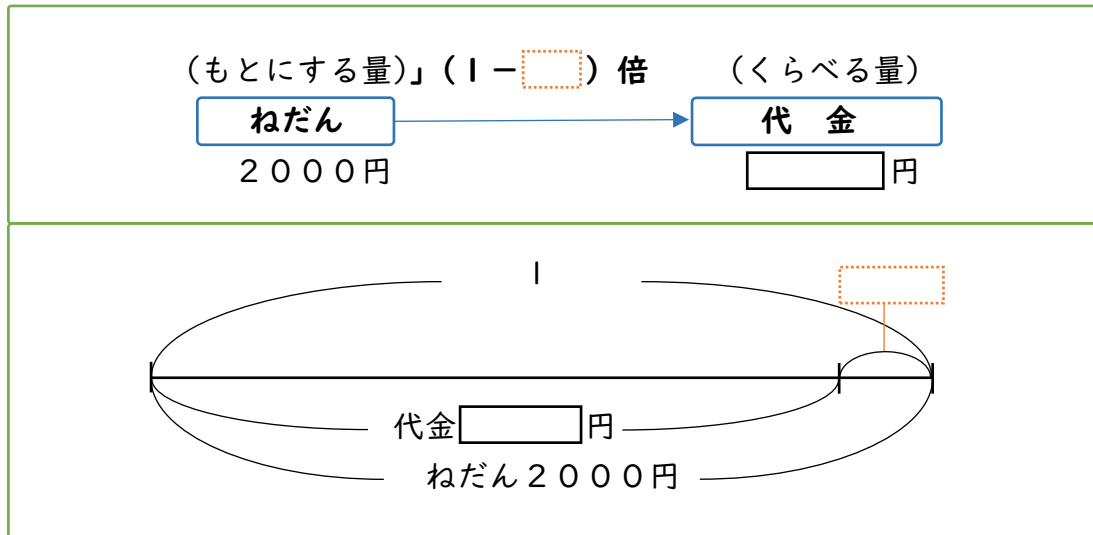
① もとのねだんの9%は何円になりますか。

式

答え

② しはらう代金は、もとのねだんの何倍になりますか。

に割合を書きましょう。



式

答え

③ 代金は何円になりますか。

式

答え



ねだんが1200円のくつを20%引きで買います。

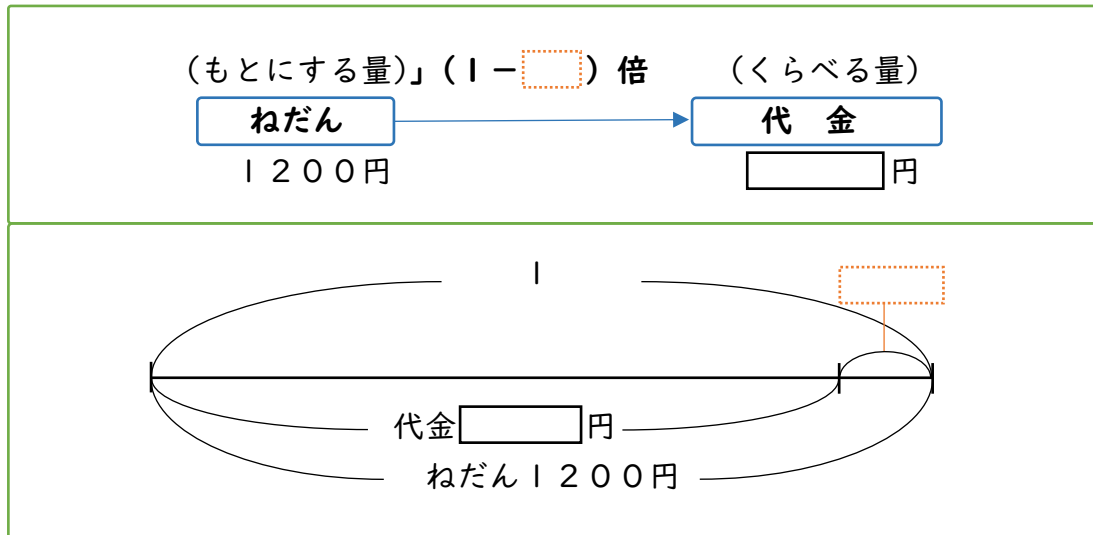
① もとのねだんの20%は何円になりますか。

式

答え

② しはらう代金は、もとのねだんの何倍になりますか。

に割合を書きましょう。



式

答え

③ 代金は何円になりますか。

式

答え